



Test: Satzzeichen



Welches Satzzeichen passt hier?

Morgen gibt es Spagetti zum Mittagessen

Wie alt bist du

Aua Das tut weh

Gibst du mir bitte mal das Salz

Wann feiern wir deinen Geburtstag

Nach dem Juni kommt der Juli

Tor

Können wir morgen ins Schwimmbad gehen

Puh, ist das heiß

In den Ferien fahre ich zu meiner Oma

Halt Stopp Polizei

Was wünschst du dir zum Geburtstag

Meine Mama backt einen Schokoladenkuchen

Wer hat meinen Keks angebissen

Wir schreiben bestimmt bald einen Test


Magst du ein Stück Wassermelone

Dein neuer Pulli gefällt mir

Bist du verliebt

Hört sofort auf damit

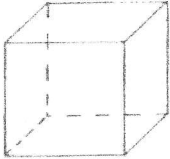

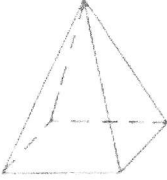


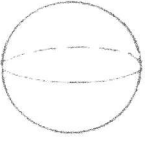
Wir singen ein schönes Sommerlied



Eigenschaften von Körpern



1. Wie heißt der abgebildete Körper?
2. Untersuche die einzelnen Körper und beschreibe sie!

1.	Würfel		Der Würfel hat ___ Kanten und _____ Ecken. Der Würfel hat _____ Flächen. Gegenstand: <i>Spielwürfel</i>
2.			Der _____ hat ___ Kanten und _____ Ecken. Der _____ hat ___ Flächen. Gegenstand: _____
3.			Die _____ hat ___ Kanten und _____ Ecken. Die _____ hat ___ Flächen. Gegenstand: _____
4.			Der _____ hat ___ Kanten und _____ Ecken. Der _____ hat ___ Flächen. Gegenstand: _____
5.			Der _____ hat ___ Kanten und _____ Ecken. Der _____ hat ___ Flächen. Gegenstand: _____
6.			Die _____ hat ___ Kanten und _____ Ecken. Die _____ hat ___ Flächen. Gegenstand: _____

Lösungen:
 Würfel: 8 Ecken, 12 Kanten, 6 Flächen
 Quader: 8 Ecken, 12 Kanten, 6 Flächen
 Pyramide: 5 Ecken, 8 Kanten, 5 Flächen
 Kegel: 1 Ecke, 1 Kante, 2 Flächen
 Zylinder: 0 Ecken, 2 Kanten, 3 Flächen
 Kugel: keine Ecken und Kanten, 1 Fläche

Test: 7er-Reihe

Name: _____




Übung 1:

Ziehe eine Linie, die den Multiplikationsausdruck mit dem korrekten Produkt verbindet.

$5 \cdot 7$	14	
$7 \cdot 7$		21
$9 \cdot 7$	56	
$8 \cdot 7$		63
$4 \cdot 7$	35	
$2 \cdot 7$		49
$3 \cdot 7$	70	
$1 \cdot 7$		28
$6 \cdot 7$	42	
$10 \cdot 7$		7

Übung 2:


Trage die fehlende Zahl ein.

a)  $\cdot 7 = 28$ b)  $\cdot 7 = 7$ c)  $\cdot 7 = 21$

Übung 3:

Trage das richtige Produkt ein.

a) $9 \cdot 7 = \underline{\quad}$ b) $7 \cdot 7 = \underline{\quad}$ c) $10 \cdot 7 = \underline{\quad}$
d) $8 \cdot 7 = \underline{\quad}$ e) $3 \cdot 7 = \underline{\quad}$ f) $6 \cdot 7 = \underline{\quad}$



Für mehr Arbeitsblätter, Spiele und Übungen:
www.einmaleins.de

Katzenkinder

Die Katze bringt in einem sicheren Versteck zweimal im Jahr vier bis sechs Junge zur Welt. Die winzigen Kätzchen sind bei der Geburt blind und taub. Sie sind Nesthocker.



Die Katzenmutter lässt die hungrigen Babykatzen an ihren Zitzen saugen. Katzen sind Säugetiere.

Beim Säugen drücken sie ihre kleinen Tatzen gegen den Mutterbauch. Dabei schnurren die Jungen genüsslich.

Die Katzenmutter putzt ihre Katzenkinder liebevoll mit ihrer rauen Zunge.

Mit 9 Tagen können die Kätzchen endlich sehen.

Nach 2 bis 3 Wochen beginnen die kleinen Katzen zu spielen. Katzen spielen gerne mit allem, was sich bewegt.

1. Wie viele Junge bekommt eine Katzenmutter?

2. Woran saugen die Kätzchen, wenn sie Hunger haben?

3. Womit putzt die Katzenmutter ihre Jungen?

4. Wann können Kätzchen sehen?

5. Womit spielen Katzen gerne?
