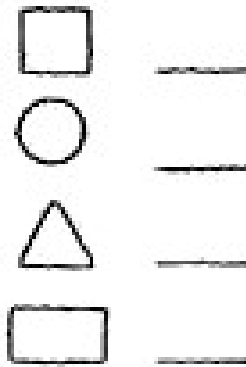




Teste dich selbst

1. Male gleiche Formen mit gleicher Farbe an. Schreibe die Anzahl daneben!



2. Rechne! Nutze die Umkehraufgabe!

$___ + 8 = 13$

$___ + 4 = 11$

$___ + 9 = 18$

$___ + 6 = 14$

$___ - 7 = 8$

$___ - 6 = 6$

$___ - 5 = 9$

$___ - 9 = 6$

4. Ungleichungen. Setze $<$ $>$ $=$ ein!

$8 + 4 \quad 13$

$4 + 5 \quad 11$

$12 - 5 \quad 8$

$6 + 6 \quad 10$

$7 + 7 \quad 13$

$17 - 9 \quad 9$

$7 + 6 \quad 15$

$9 + 5 \quad 14$

$15 - 8 \quad 7$

5. Rechne! Zuerst bis zur 10!

$7 + 8 =$

$4 + 9 =$

$8 + 6 =$

$5 + 9 =$

$3 + 8 =$

$7 + 3 = 10$

$10 + _ = _$

$15 - 9 =$

$13 - 5 =$

$16 - 9 =$

$12 - 3 =$

$14 - 9 =$

$15 - 5 = 10$

$10 - _ = _$
